

1. Тип 1 № 50

Найди значение выражения  $20 \cdot 32$ .

2. Тип 2 № 26

Найди значение выражения  $7 + 3 \cdot (8 + 12)$ .

3. Тип 3 № 134

У Тани есть 1500 рублей, и ей нужно купить 2 кг капусты, 1 кг перца, 1 кг моркови и 2 килограмма помидоров. Какое наибольшее число лукошек клубники может купить Таня на оставшиеся деньги?

<p><b>ЯБЛОКИ</b></p>  <p>85 руб.</p>	<p><b>КЛУБНИКА</b></p>  <p>150 руб.</p>	<p><b>ПЕРЕЦ</b></p>  <p>150 руб.</p>
<p><b>МОРКОВЬ</b></p>  <p>35 руб.</p>	<p><b>ПОМИДОРЫ</b></p>  <p>120 руб.</p>	<p><b>КАПУСТА</b></p>  <p>50 руб.</p>

Запиши решение и ответ.

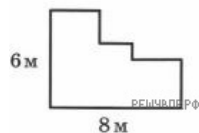
4. Тип 4 № 27

Во сколько начались занятия спортивной секции, если они длились 1 час 30 минут и закончились в 17 часов 15 минут?

Ответ: в  час.  мин.

5. Тип 5.1 № 312

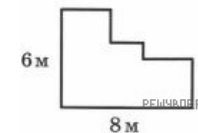
На рисунке ниже изображена фигура. Найди периметр этой фигуры. В ответе укажите число.



6. Тип 5.2 № 554

На рисунке ниже изображена фигура.

Проведи отрезок так, чтобы эта фигура оказалась разбита на 4 части.



7. Тип 6.1 № 43

У тётки Веры три коровы: Бурёнка, Красавица и Любава. Тётя Вера заносит в таблицу количество литров молока, которое она получает от каждой коровы за день. Используя таблицу, ответь на вопросы.

Какая корова дала больше всех молока за второй день?

Дни по порядку	Бурёнка	Красавица	Любава
Первый день	12	20	14
Второй день	15	22	11
Третий день	14	18	12
Четвёртый день	18	17	13

8. Тип 6.2 № 590

У тётки Веры три коровы: Бурёнка, Красавица и Любава. Тётя Вера заносит в таблицу количество литров молока, которое она получает от каждой коровы за день. Используя таблицу, ответь на вопросы.

Сколько литров молока дала Любава за все четыре дня?

Дни по порядку	Бурёнка	Красавица	Любава
Первый день	12	20	14
Второй день	15	22	11
Третий день	14	18	12
Четвёртый день	18	17	13

9. Тип 7 № 55

Найди значение выражения  $(475 + 201) : 2 - 192$ .

10. Тип 8 № 399

Двенадцать каменщиков построили первый этаж детского сада за 28 дней. Чтобы ускорить окончание работы, на строительство второго этажа, точно такого же по размерам, прораб стройки пригласил ещё несколько каменщиков из другой бригады. Сколько каменщиков пригласил прораб, если второй этаж был построен за 16 дней?

Запиши решение и ответ.

11. Тип 9.1 № 31

Татьяна должна обсудить свою новую идею с директором, бухгалтером и программистом. С каждым из них обсуждение длится ровно час. Известно, что директор занят с 10 до 12 часов, бухгалтер приезжает на работу к 10 часам, а у программиста важное совещание с 10 до 11 часов. При этом Татьяна смогла закончить все три обсуждения к 12 часам, придя на работу к 9 часам.

Назовите должность сотрудника, у которого Татьяна была в 11:30.

12. Тип 9.2 № 652

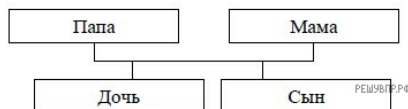
Татьяна должна обсудить свою новую идею с директором, бухгалтером и программистом. С каждым из них обсуждение длится ровно час. Известно, что директор занят с 10 до 12 часов, бухгалтер приезжает на работу к 10 часам, а у программиста важное совещание с 10 до 11 часов. При этом Татьяна смогла закончить все три обсуждения к 12 часам, придя на работу к 9 часам.

Назовите должность сотрудника, к которому отправилась Татьяна после обсуждения идеи с директором?

13. Тип 10 № 1176

Родственные связи можно представить в виде схемы. Например, на схеме ниже представлена семья с двумя детьми. Такую схему ещё называют родословное или семейное дерево.

Пример

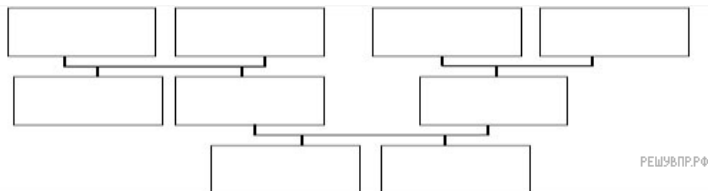


Прочитай текст и изобрази семейное дерево, включающее всех перечисленных в тексте родственников. Впиши в прямоугольники на схеме имена или имена и отчества родственников.

Меня зовут Светлана. Мою маму зовут Юлия Ивановна, она работает технологом на швейной фабрике. Её родители живут далеко от нас, в деревне Нутрома Тверской области. Бабушка Марина Игнатьевна уже на пенсии, а дедушка Иван Михайлович работает на деревообрабатывающем комбинате. С ними живёт мамин брат дядя Саша, но он поступил в институт и скоро поедет учиться в Тверь. Летом мы ездим к ним в гости.

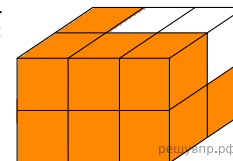
Моего папу зовут Виталий Владимирович, он водитель автобуса. Когда я была маленькая, мама забирала меня из садика, мы успевали на его рейс и папа довозил нас до дома. Мой дедушка Владимир Миронович тоже работал водителем, но он уже умер. А бабушка Анна Николаевна живёт вместе с нами. Она заботится обо мне и моём братике Вите.

Схема для заполнения



14. Тип 11 № 147

Брусok, изображённый на данном ниже рисунке, собран из трёх деталей. Каждая деталь состоит из четырёх кубиков и окрашена в свой цвет. Нарисуй изображение белой детали.



15. Тип 12 № 82

Куртка на 700 руб. дешевле, чем пять шапок, но на 200 руб. дороже, чем две шапки. Сколько стоит шапка?

Запиши решение и ответ.